

PRÁCTICA BIOGEOGRAFÍA 1

A continuación se presenta el mapa de las regiones biogeográficas de España. Obsérvelo y responda a las siguientes cuestiones:

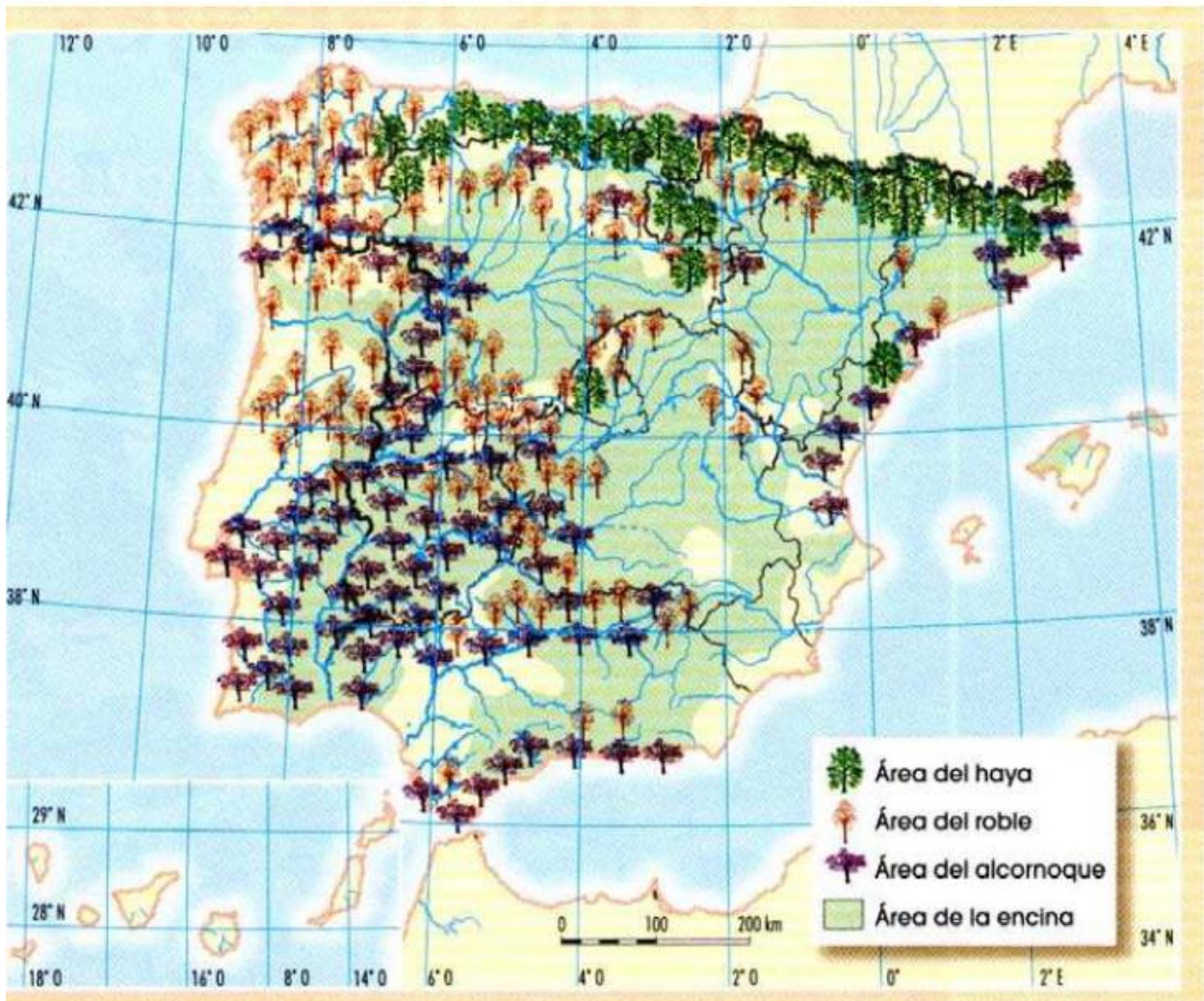
- Identifique las provincias administrativas comprendidas (en todo o parte) a la región eurosiberiana (Hasta 1 punto)
- Identifique las principales especies correspondientes al ámbito biogeográfico de Andalucía (Hasta 1 punto)
- Explique la relación existente entre las condiciones físicas del territorio y las diferentes regiones biogeográficas (Hasta 2 puntos)



PRÁCTICA BIOGEOGRAFÍA 2

En el mapa se representa la extensión superficial de algunos árboles característicos de la vegetación española. Obsérvelo y conteste a las siguientes preguntas:

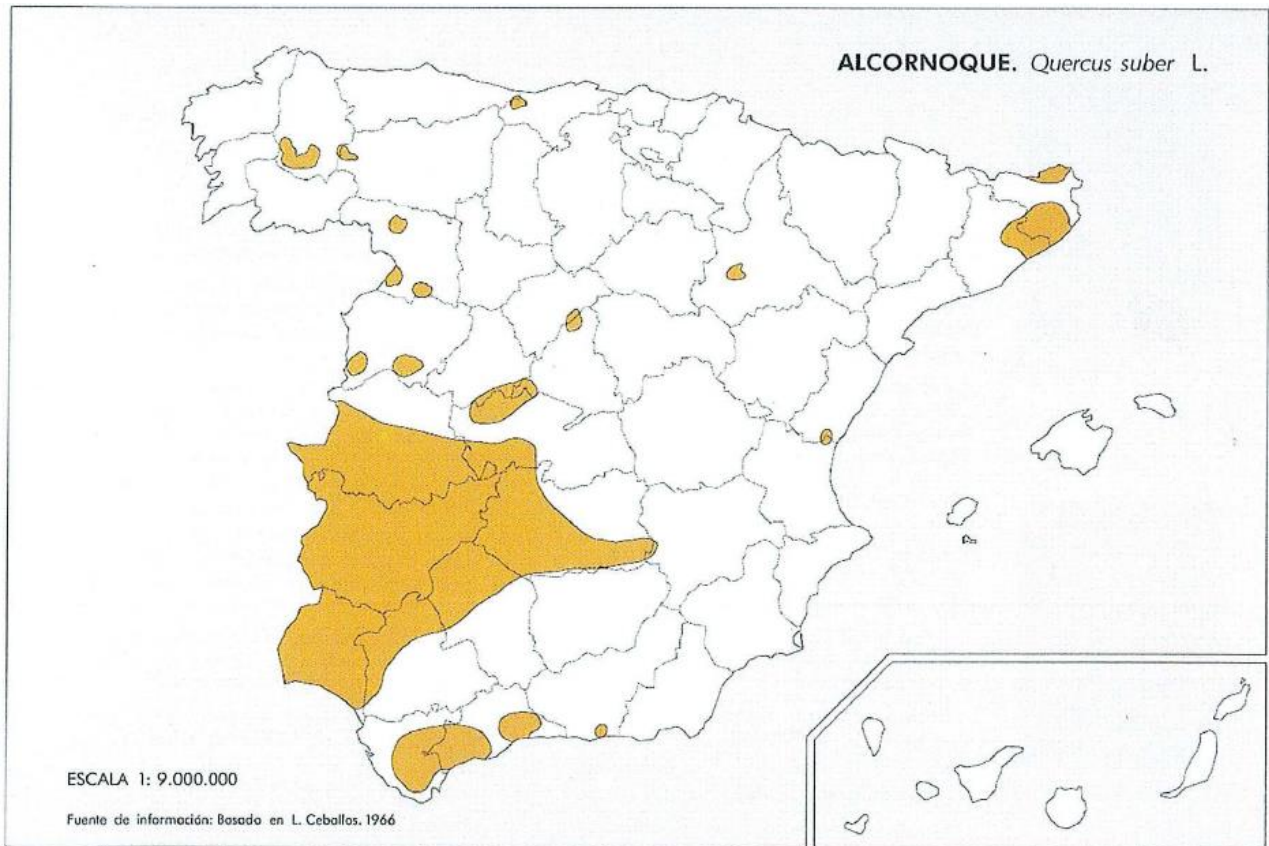
- Indique el nombre de las Comunidades Autónomas donde se localiza, predominantemente, el alcornoque y cite las provincias en las que no hay encinas. (Hasta 1 punto).
- ¿Sobre qué zonas litológicas se extiende el alcornoque? Explique las características de la encina que justifican su extensa distribución. De las especies señaladas en la leyenda, diga las que forman bosques caducifolios y cuáles forman bosques perennifolios. (Hasta 1,5 puntos).
- ¿Qué factores explican la mayor presencia de masas forestales en el oeste y norte de la Península? (Hasta 1,5 puntos).



PRÁCTICA BIOGEOGRAFÍA 3

El mapa representa la distribución del alcornoque en la Península Ibérica. Analícelo y responda a las siguientes preguntas:

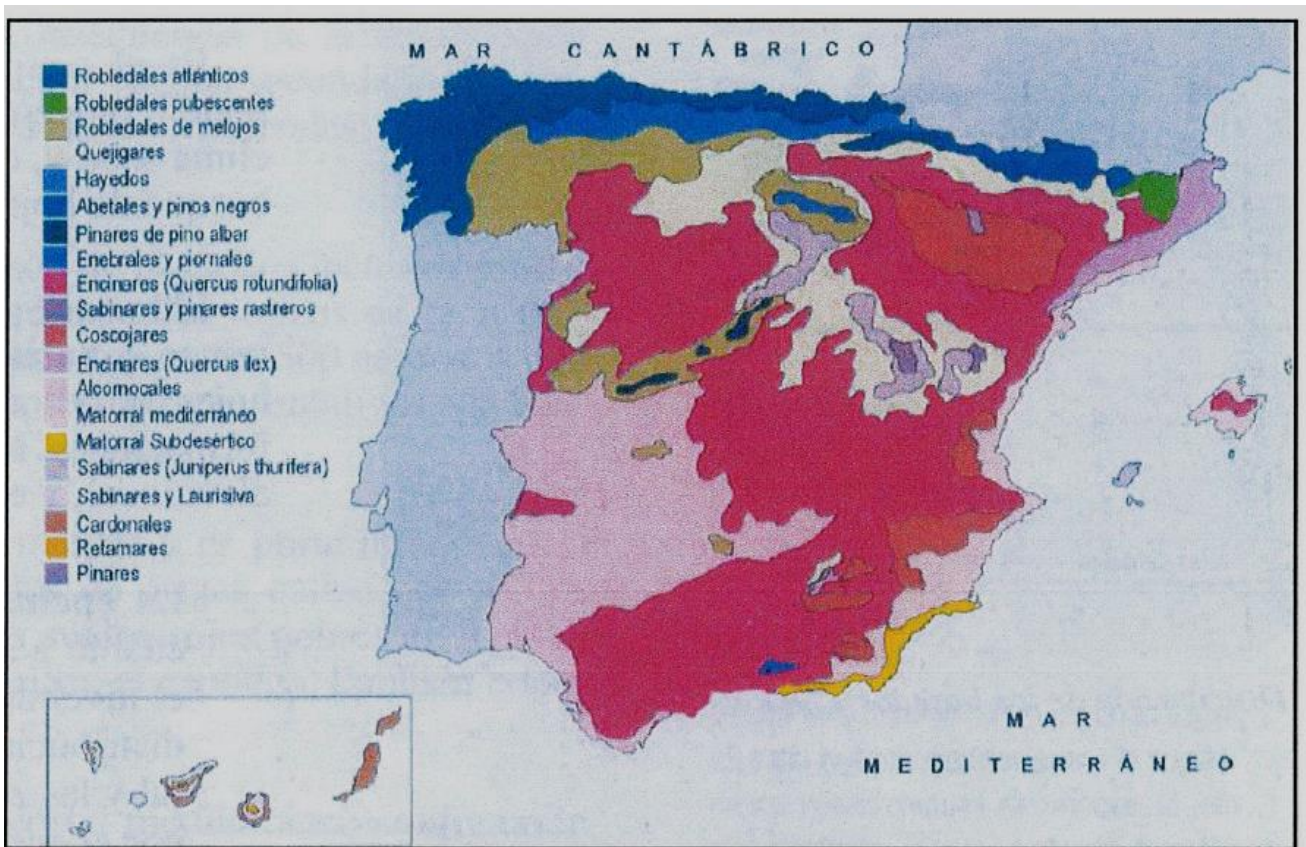
- Diga el nombre de las provincias afectadas por la mancha más grande del mapa.
- Qué relación existe entre esta distribución y la litología peninsular. ¿Y con el medio natural de la zona afectada?
- Explique qué actividades económicas están relacionadas con esta especie vegetal.



PRÁCTICA BIOGEOGRAFÍA 4

En el siguiente mapa se representan las distintas formaciones vegetales de España. Con la información que contiene, conteste a las siguientes preguntas:

- Diga las Comunidades Autónomas sobre las que se localizan los robledales en general, y el hayedo. (Hasta 1 punto).
- Diga las provincias sobre las que se extiende el matorral subdesértico. (Hasta 1 punto).
- Explique la relación que existe entre la distribución de las formaciones vegetales citadas y otros elementos del medio natural. (Hasta 2 puntos).



PRÁCTICA BIOGEOGRAFÍA 5

Los mapas representan la distribución de cuatro especies arbóreas en la Península Ibérica. Obsérvelos y responda a las siguientes preguntas:

- Diga el nombre de las provincias donde es importante la presencia del haya. (Hasta 1 punto).
- Qué relación existe entre la distribución de cada una de estas cuatro especies y los caracteres naturales de la Península. (Hasta 2 puntos).
- Explique qué actividades económicas están relacionadas con el alcornoque y cuáles con la encina. Razónelo brevemente. (Hasta 1 punto).



BIOGEOGRAFÍA 6

Observe el mapa y conteste las siguientes cuestiones:

- ¿Con qué comunidades autónomas se relaciona la región eurosiberiana? (Hasta 1 punto).
- Compara las características climáticas de la región eurosiberiana y mediterránea y cita algunas de sus especies arbóreas más representativas. (Hasta 1 punto).
- ¿Qué características climáticas hacen de las islas Canarias una región biogeográfica especial? (Hasta 2 puntos).

